

算⑦

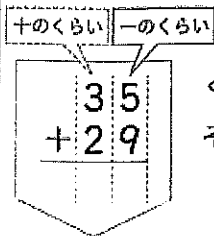
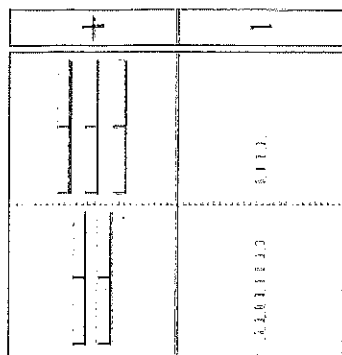
5/

()

P18

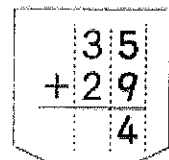
★ブロックをならべておなじようにうごかしてみよう。

35+29のひっ算のしかた

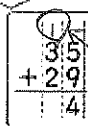


くらいを たてに
そろえて 書く。

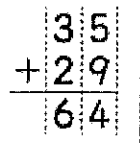
くり上げる



一のくらの 計算
 $5 + 9 = 14$



十のくらのに
1 くり上げる。
くり上げた1は
上にかく。



十のくらの 計算
くり上げた
1と3で4。
 $4 + 2 = 6$

$$35 + 29 = 64$$

① のくらの けい算の こと
えが 10 を こえる ときは、十
のくらのに くり上げる。

★くり上げた1は、ここにかけます。

①

②

③

④

⑤

⑥

$$\begin{array}{r} 23 \\ + 68 \\ \hline \end{array}$$

$$\begin{array}{r} 17 \\ + 19 \\ \hline \end{array}$$

$$\begin{array}{r} 35 \\ + 18 \\ \hline \end{array}$$

$$\begin{array}{r} 16 \\ + 49 \\ \hline \end{array}$$

$$\begin{array}{r} + \\ \hline \end{array}$$

$$\begin{array}{r} + \\ \hline \end{array}$$

・計算ドリルノート7をやる。

⑦

⑧

⑨

⑩